

40 МХК 44 06 В


128. Q

**Школьный этап всероссийской олимпиады школьников
по искусству и МХК
2023-2024 учебный год
5-6 класс
Максимальный балл – 130баллов
Задание 1**

«Шу-уу! Шур-шур! – таинственно доносилось из соседней комнаты. Фриц и Мари сидели в полутемной спальне и прислушивались. До поры до времени им не разрешалось входить в гостиную, где, наверное, уже сверкала праздничными огоньками свечей рождественская елка».

Рассмотрите изображения, напишите название произведения и его автора. Какие жанры представлены? Аргументируйте свой ответ.

1.



1.	Золушка X	Иванушкин X	X
2.	сказка	X	X
3.			

Оценка:

1. Участник называет произведение и его автора от 2 – 6 баллов;
2. Правильно определяет жанры от 1–3 баллов;
3. Аргументирует ответ от 1– 6 баллов.

Максимальная оценка: 15 баллов

08.

Задание 2.

Этого создателя гробницы фараона называют первым архитектором в истории мировой архитектуры, основоположником каменного строительства; его считали покровителем письменности и образования и почитали наравне с богами; именно с'его творения началась новая эпоха в строительстве гробниц Древнего царства:

- А) Джосер;
- Б) Имхотеп;
- В) Ментухот;
- Г) Менкаура.

Выберете правильный ответ и обведите букву.

Максимальная оценка: 2 балла

08.

Задание 3

Деталь крыши на традиционных деревянных русских избах в виде головы коня.

Максимальная оценка: 2 балла

05.

Задание 4

Даны ряды слов.

1. Найдите лишнее слово в каждой строке и вычеркните его.
2. Кратко поясните свое решение.

А) Глинка, Бородин, Мусоргский, Римский-Корсаков ~~Мусоргский~~ мусоргский -
это глии, а остальные суц.

Б) Айвазовский, Шишкин, Поленов, Левитан
все остальные фамилии, а это не фамилия на фамилию

В) Ада, скрипка, гусли, виолончель
Ада - это степь, а другие музыкальные инструменты

Максимальная оценка: 18 баллов

05.

Задание №5

Прочтите и вставьте нужное слово.

«Песня о картинах»
Александр Кушнер, Григорий Гладков

Если видишь, на картине 18
Нарисована река,
Или ель и белый
иней, Или сад и
облака,
Или снежная равнина,
Или поле и шалаши, —
Обязательно картина 18
Называется пейзаж. 18
Если видишь на картине 16
Чашку кофе на столе,
Или море в большом
графине, Или розу в
хрустале,


Или бронзовую вазу,
Или грушу или торт,
Или все предметы сразу, —
Знай, что это _____
Если видишь, что с _____
Смотрит кто-нибудь из нас, —
Или принц в плаще старинном,
Или в робе верхолаз,
Летчик или балерина,
Или Колька, твой сосед, —
Обязательно картина
Называется натюрморт

Максимальная оценка:
12 баллов


45.

Задание 6

Рассмотрите предложенные произведения искусства.




1.




2.




3.



4.



5.



6.

Шифр 40 МХР 44 08 В+

396.
fr

**Школьный этап Всероссийской олимпиады школьников
по мировой художественной культуре (МХК)**

2023 – 2024 учебный год

7 – 8 классы



Максимальный балл 200 баллов

I задание

1. Выберите из предложенных авторов произведений правильный вариант и впишите в таблицу: В. В. Верещагин, К. С. Петров-Водкин, В. Л. Боровиковский, З. Н. Серебрякова, И. К. Айвазовский, А. И. Куинджи, М. Ефремова, В. И. Суриков
2. Если знаете название произведения, подпишите.
3. Укажите, к каким жанрам изобразительного искусства относятся эти произведения.

Максимально 48 баллов

1  <p>Пейзаж, Суриков.</p>	2  <p>Айвазовский</p>
3  <p>Серебрякова</p>	4  <p>Портрет, Ефремова</p>
5  <p>Боровиковский, Пейзаж</p>	6  <p>Натюрморт, Куинджи</p>

7	8
	
Портрет Верещагина	Петров - Водкин







65


Задание 2

Соотнесите имя деятеля искусства и его вклад в историю культуры Древней Греции. К имени скульптора подпишите букву, соответствующую его творению. Образец ответа: Фидий – 9 М.

Максимально 12 + 12 баллов

1	Скульптор Мирон	1) трагедия
2	Гомер	2) «Аполлон Бельведерский»
3	Скульптор Поликлет	3) комедия
4	Комедиограф Аристофан	4) «Дискобол»
5	Драматург Софокл	5) «Дорифор»
6	Скульптор Леохар	6) поэма «Одиссея»

А	Б	В
		
1-2	6-5)	3-3) 4
Г	Д	Ж
		
(2) Гомер - 6)	4-3)	5-1)




05.

Задание 3

Соотнесите названия художественных стилей и произведения искусства эпохи Средневековья. Назовите данные творения. Затем выберите одну фотографию шедевра и докажите принадлежность творения данному стилю, используя максимальное количество терминов.

Максимально 28 +10 баллов

Звериный стиль викингов	4 4 2, 11
Романский стиль	1, 4, 6, 7, 9
Готический стиль	3, 5, 10, 12, 8 4





248




Задание 4

Даны 3 изображения памятников искусства.

Напишите:

- 1) названия произведений,
- 2) к какой стране или культуре они относятся,
- 3) время их создания,
- 4) их местонахождение в настоящее время.

Максимально 28 баллов

		
	Преция, Рим	Кремль, Россия 15. 1840-1841, в России

10.

Задание 5

Рассмотрите и проанализируйте картину Карла Брюллова «Последний день Помпеи»

- 1) Опишите общую композицию полотна.
- 2) Назовите значимые запоминающиеся детали, их место в композиции, а также функции.
- 3) Определите общее настроение картины.
- 4) Укажите жанр произведения.
- 5) Назовите 3 известные творения этого художника.

Максимально 32 балла



Задание 6

Даны 12 терминов, связанных с искусством.

Роман, амфора, неф, баллада, тимпан, апсида, лекиф, кратер, эпопея, повесть, трансепт, пифос

- 1) Объедините термины в группы.
- 2) Дайте определение каждой группе.

Максимально 30 баллов

	Термины	Название группы
1.	Роман, баллада, эпопея, повесть	Литература
2.		
3.		

85